



GEOLOGO INVIOR 1^a sezione 2006
1^a PROVA SCRITTA

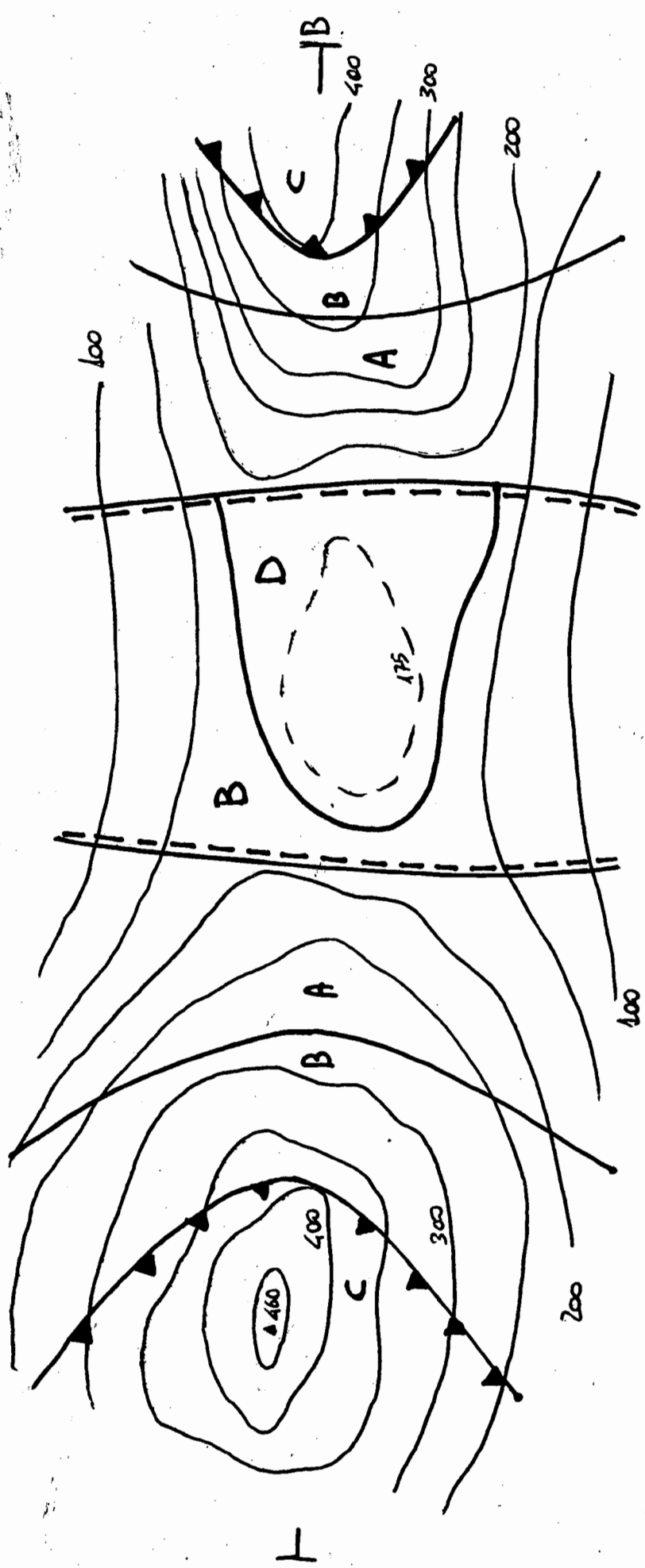
IL CANDIDATO RICOSTRUISCA LA SEZIONE GEOLOGICA TRACCIATA SULLA CARTA ALLEGATA, UTILIZZANDO LA STESSA SCALA RAPPRESENTATA DALLA CARTA. IL CANDIDATO INOLTRE, SULLA BASE DELLA GEOLOGIA E TOPOGRAFIA ESPRESSA DALLA CARTA E DALLA SEZIONE GEOLOGICA, ELABORI UNA RELAZIONE GEOLOGICA E MORFOLOGICA

□

faglie

Contatti
stratigrafici

Contatti
teonici



1:10.000

Legenda

D) Detrito di Frana

B) alternanza pelitico-arenacea

A) Calcari marnosi

C) Filladi



I^a SESSIONE
2006

GEOLOGO JUNIOR

II^a PROVA SCRITTA

Tenendo presenti i dati geo-litologici e morfologici dello stralcio cartografico allegato, nonché della sezione geologica riprodotta, il candidato individui e descriva le aree che potrebbero essere caratterizzate dalle seguenti problematiche e/o vocazioni di ordine applicativo ed ambientale:

- ◆ aree di possibile ubicazione, nell'ambito di una Valutazione di Impatto Ambientale, di elementi genericamente sensibili riguardo gli aspetti geologici;
- ◆ aree con possibile presenza di sistemi carsici per un utilizzo geo-ambientale;
- ◆ aree utili per la coltivazione di cave idonee all'attività industriale specifica per produzione di rilevati stradali.

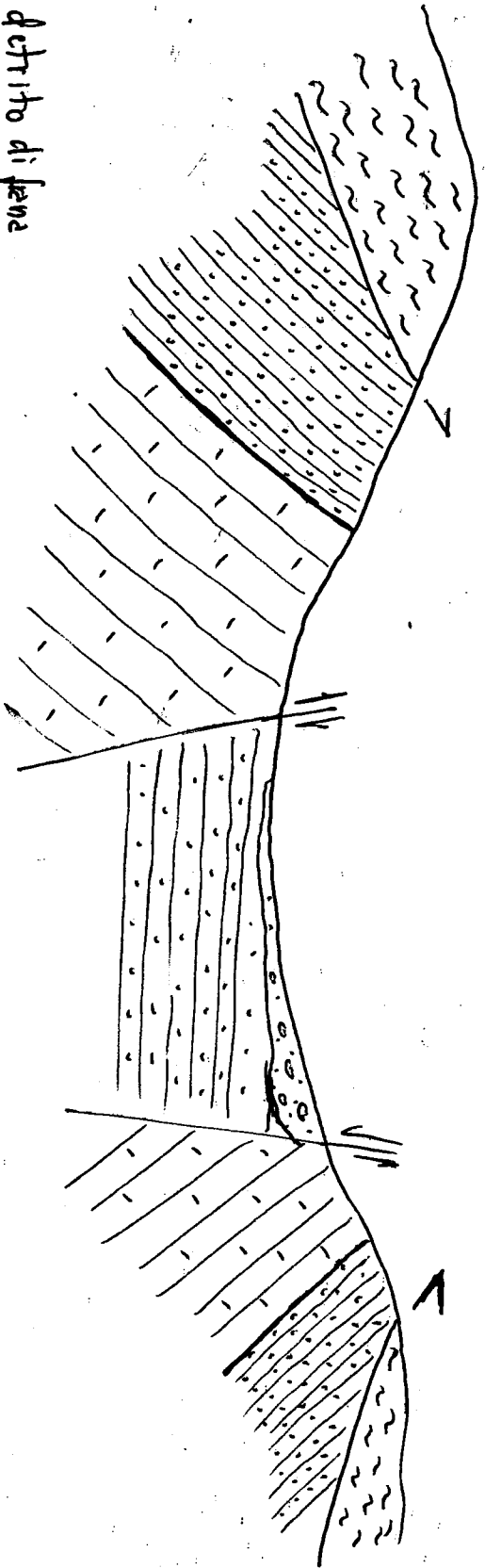
Il candidato descriva sommariamente, inoltre, le tecniche di indagine più idonee per una valutazione delle risorse idriche sotterranee dell'area, evidenziando sulla carta, anche, i punti più opportuni ove ubicare le stesse indagini.



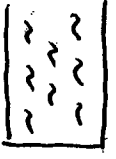
folie

contatto stratigrafico

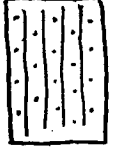
contatto
tehonico



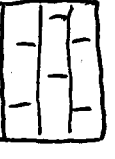
detrito di fana



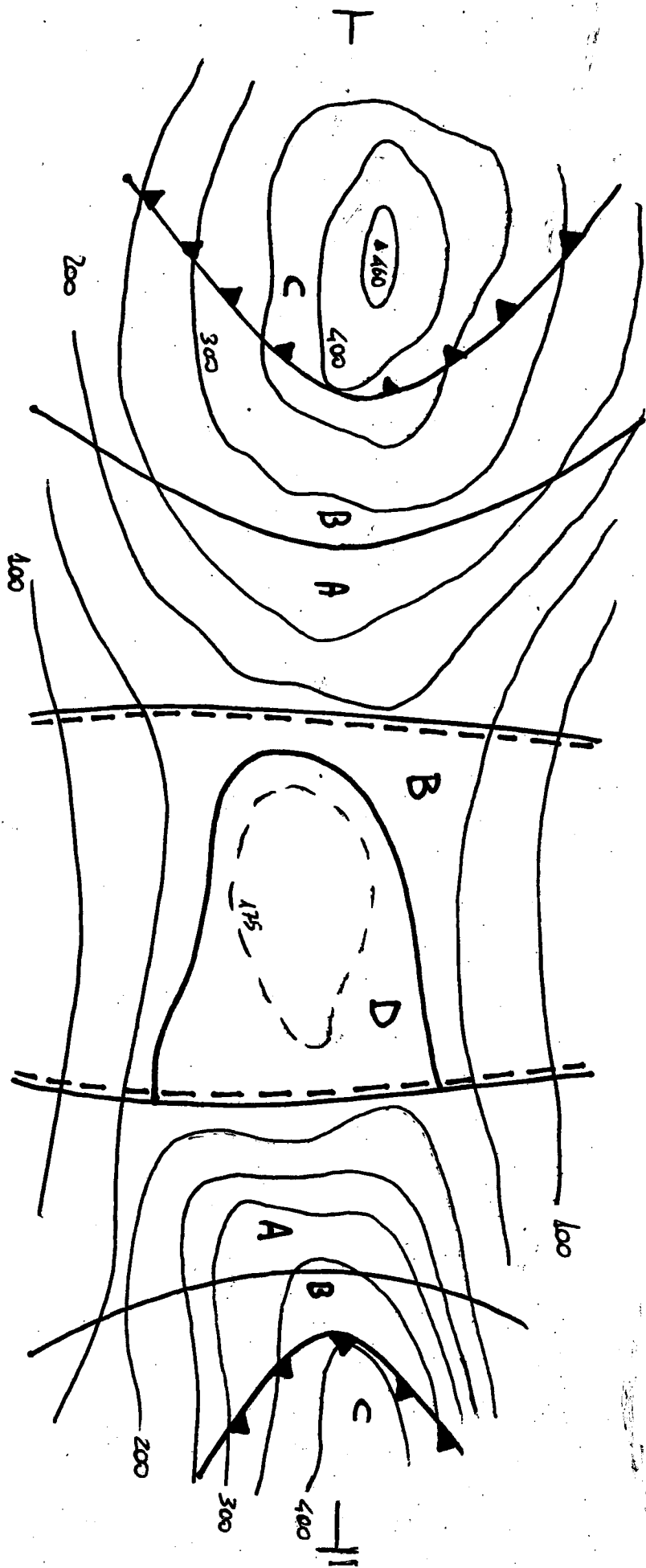
faldi



struttura pellica-diretta



calcei mammosi



laglie

Cawtalh
strehqetka

Cawtalh
Te nowici

1:10.000

